

Тема: Прибавление числа 8. Вычитание числа 8.

1. Выполняем задания в рабочей тетради на стр.24-25

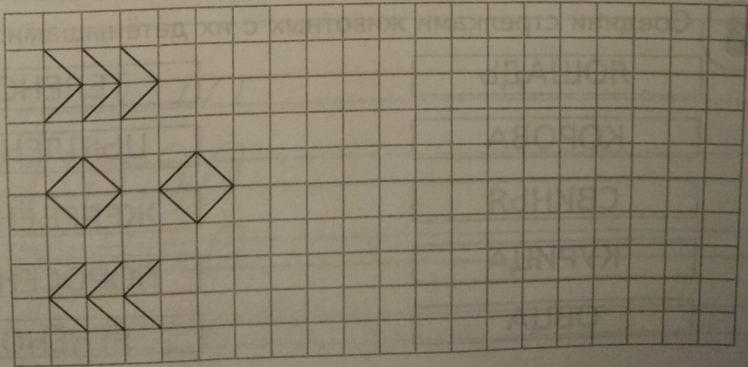
2. Материал для повторений. Задания выполнять в тетради в клетку.

5 Реши математические цепочки.

$7 \xrightarrow{-1} \bigcirc \xrightarrow{+2} \bigcirc \xrightarrow{-3} \bigcirc \xrightarrow{+1} \bigcirc$

$5 \xrightarrow{+1} \bigcirc \xrightarrow{-2} \bigcirc \xrightarrow{-1} \bigcirc \xrightarrow{+2} \bigcirc$

6




9

5 Реши примеры. Поставь знаки $>$, $<$, $=$.


$3 + 1 \bigcirc 2$	$5 + 2 \bigcirc 4$	$5 + 5 \bigcirc 9$
$5 - 2 \bigcirc 3$	$4 + 1 \bigcirc 7$	$7 - 3 \bigcirc 5$
$4 - 2 \bigcirc 1$	$6 - 3 \bigcirc 2$	$7 - 1 \bigcirc 6$

6



3. Реши примеры и раскрась картинку в нужные цвета.

3 5 4 2 3

 кр. жёлт. син. зел.

